


Venha se preparar para o CPOR/NPOR

Somos o curso preparatório que
mais aprova alunos no processo
seletivo do CPOR/NPOR

QUERO ME PREPARAR



CPOR/SP E NPOR VINCULADOS

SELEÇÃO COMPLEMENTAR/2021

Exame Intelectual

Nome: _____
CAM: _____

Assinatura do Candidato:

Instruções ao Candidato

1. Confira a constituição da prova que deverá conter: **23 (vinte e três) páginas**, incluindo a capa.
2. A prova é constituída de **05 (cinco) partes**, sendo **40 (quarenta) itens** de múltipla escolha e uma redação.
3. Identifique com seu **nome completo** e número do CAM todas as páginas da prova.
4. As questões objetivas deverão ser respondidas no **cartão resposta**. Você deve escrever no espaço destinado a cada item, a letra que corresponde à resposta correta, não podendo haver rasuras.
5. Só serão consideradas as respostas escritas à **caneta azul ou preta** no **cartão resposta**. As respostas a lápis não serão consideradas.
6. As questões de múltipla escolha contêm **apenas uma resposta correta**.
7. Os espaços em branco das folhas poderão ser usados como rascunho, porém, não serão avaliados.
8. A redação deverá ser confeccionada no espaço destinado na página número **22 (vinte e dois)**.
9. A redação deverá ser realizada com **caneta azul ou preta**. Os textos escritos a lápis serão desconsiderados.
10. O tempo total de duração da prova é de **04 (quatro) horas**. Os 15 (quinze) minutos iniciais são destinados a tirada de dúvidas. O aplicador avisará quando faltarem 10 (dez) minutos para o término da prova.
11. Só inicie a prova mediante ordem.
12. Ao final da prova deixe-a sobre a mesa e levante o braço.
13. Aguarde algum membro da Comissão de Aplicação recolher a prova para que se retire da sala.
14. **Não está autorizado retirar-se da sala de provas com este caderno de questões.**
15. É expressamente proibido o contato verbal ou gestual com outro candidato. Não é permitida consulta a nenhum documento ou meio eletrônico. O candidato que incorrer em um desses casos, a critério da comissão de aplicação, poderá ter sua prova anulada, ficando com nota 0 (zero).
16. É proibido o uso de aparelhos celulares e relógios durante a execução da prova. O aparelho celular deverá ser desligado e depositado numa embalagem para isso destinada, juntamente como o relógio e outros objetos pessoais dispensáveis para a execução da prova. Esta embalagem será lacrada e colocada abaixo da carteira.
17. Somente após 2 horas a partir do início da prova será autorizada a saída dos candidatos.

Para uso do CPOR/SP e NPOR

	Escores	Grau
Grau Máximo	140	10,00
Parte Objetiva		
Redação		
Grau Final		

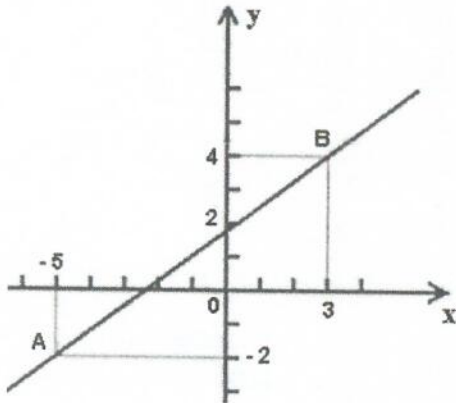
Instrutor que corrigiu a avaliação:

Nome: _____



1ª PARTE – MATEMÁTICA

1. Observe o seguinte gráfico:



Assinale a alternativa com a função definida pela reta representada no gráfico acima e coordenadas dos pontos A e B.

- a) $f(x) = \frac{3}{4}x + \frac{7}{8}$; A = (3, 4); e B = (-5, -2)
- b) $f(x) = \frac{1}{4}x - \frac{3}{8}$; A = (4, 3); e B = (-2, -5)
- c) $f(x) = \frac{1}{2}x + \frac{5}{8}$; A = (-5, -2); e B = (3, 4)
- d) $f(x) = \frac{3}{4}x + \frac{7}{4}$; A = (-5, -2); e B = (3, 4)
- e) $f(x) = \frac{1}{4}x - \frac{7}{4}$; A = (4, 3); e B = (-2, -5)

2. Duas pessoas, partindo de um mesmo local, caminham em direções ortogonais. Uma pessoa caminhou 5 metros para o leste; a outra, 12 metros para o sul.



Qual a distância que separa essas duas pessoas?

- a) 7m
- b) 13m
- c) 17m
- d) 60m
- e) 169m

6

3. (UFMG 2000 - MODIFICADA) Um clube resolve fazer uma Semana de Cinema. Para isso, os organizadores escolhem sete filmes, que serão exibidos um por dia. Porém, ao elaborar a programação, eles decidem que três desses filmes, que são de ficção científica, devem ser exibidos em dias consecutivos.

Nesse caso, o número de maneiras **DIFERENTES** de se fazer a programação dessa semana é:

- a) 144
- b) 576
- c) 720
- d) 1040
- e) 2080

4. Observe a expressão a seguir:

$$\frac{2^2 \cdot 2^3 \cdot 2^1 \cdot 2^2}{2^{-1} \cdot 2^2 \cdot 2^{-1}}$$

Simplificando essa expressão obtêm-se:

- a) 2^0
- b) 2^2
- c) 2^4
- d) 2^5
- e) 2^8

5. O salário bruto de Moisés é de R\$3.100,00. Desse valor, são descontadas as seguintes porcentagens:

Plano de Saúde: 10%

FGTS: 8%

Imposto de Renda (IR): 15%

Após os descontos, quanto sobra para Moisés?

- a) R\$ 1 635,00
- b) R\$ 2 077,00
- c) R\$ 2 265,00
- d) R\$ 2 790,00
- e) R\$ 2 848,00

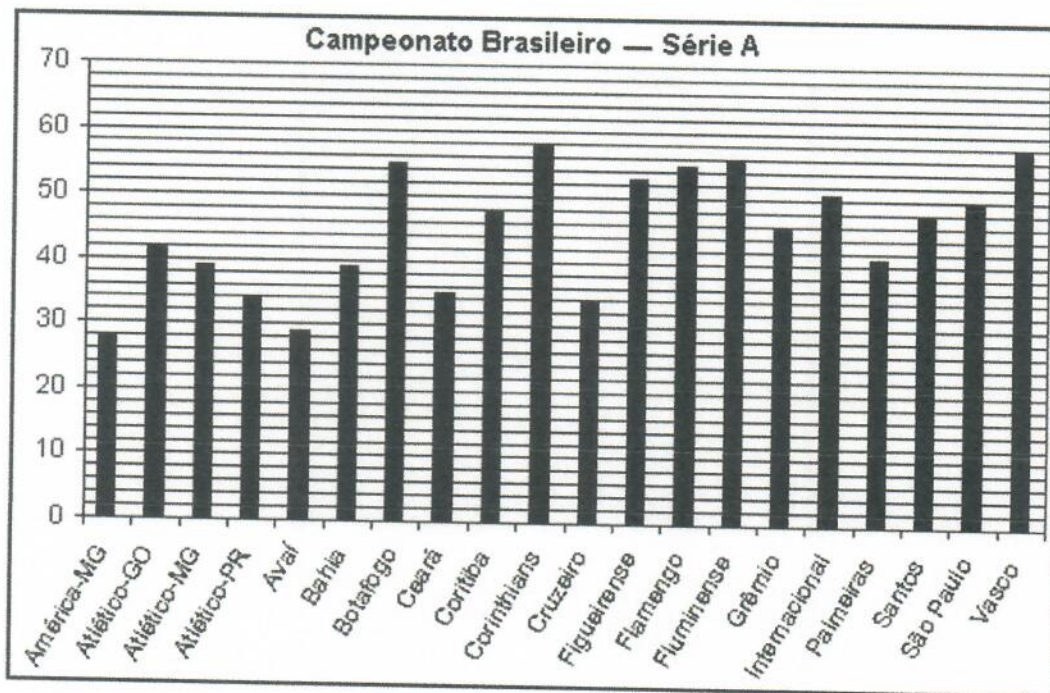


6. Para construir o muro de um determinado lote, 3 pedreiros gastam 16 dias trabalhando 8 horas por dia.

Quantos dias serão necessários para que 4 pedreiros, com o mesmo grau de habilidade dos anteriores, construam outro muro com as mesmas dimensões do primeiro sob as mesmas condições?

- a) $\frac{4}{3}$
- b) 8
- c) 12
- d) 20
- e) $\frac{64}{3}$

7. O gráfico a seguir apresenta a pontuação da 34ª rodada, que mostra a classificação dos 20 times que disputaram a série A do Campeonato Brasileiro em 2011. De acordo com as regras do Campeonato, os quatro últimos colocados serão rebaixados ao Campeonato Brasileiro da série B.



Se o campeonato terminasse nessa rodada, os times rebaixados para série B seriam:

- a) América-MG, Atlético-GO, Atlético-MG e Atlético-PR
- b) Palmeiras, Santos, São Paulo e Vasco
- c) Corinthians, Vasco, Fluminense e Botafogo
- d) Avaí, América-MG, Atlético-PR e Ceará
- e) América-MG, Avaí, Atlético-PR e Cruzeiro

R

8. Quantos números de seis algarismos distintos podemos formar usando os dígitos 1, 2, 3, 4, 5 e 6, nos quais o 1 e o 2 nunca ocupam posições adjacentes, mas o 3 e o 4 sempre ocupam posições adjacentes?

- a) 144
- b) 180
- c) 240
- d) 288
- e) 360

9. Um estudante precisa construir uma maquete da quadra de esportes da escola com 11,2 cm de comprimento e 4,8 cm de largura.

Nessas condições, qual será a medida do perímetro da quadra de esportes na maquete?

- a) 125,44 cm
- b) 53,76 cm
- c) 32 cm
- d) 23,04 cm
- e) 16 cm

10. Uma companhia de seguros levantou dados sobre os carros de determinada cidade e constatou que são roubados, em média, 150 carros por ano.

O número de carros roubados da marca X é o dobro do número de carros roubados da marca Y, e as marcas X e Y juntas respondem por cerca de 60% dos carros roubados.

O número esperado de carros roubados da marca Y é:

- a) 20
- b) 30
- c) 40
- d) 50
- e) 60

2ª PARTE – HISTÓRIA

11. O Centro de Preparação de Oficiais da Reserva de São Paulo é conhecido como Solar dos Andradas por ter servido como residência dos irmãos Martim Francisco e José Bonifácio de Andrada e Silva. Dos eventos históricos a seguir relacionados, qual deles é atribuído papel essencial à José Bonifácio?

- a) Descobrimento do Brasil, século XVI
- b) Proclamação da República, em 1889
- c) Vinda da família real para a América portuguesa, em 1808
- d) Independência do Brasil, em 1822
- e) Expulsão dos jesuítas da América portuguesa, em 1759

12. No dia 18 de setembro, comemora-se o Dia da Família Militar, sendo sua patrona Dona Rosa da Fonseca.



Fonte: CENTRO DE PREPARAÇÃO DE OFICIAIS DA RESERVA DE SÃO PAULO. Dia da Família Militar - 18 de Setembro. Disponível em: <https://bit.ly/3oh8UZy>. Acesso em: 20 Nov 2020.



Nascida em 1802, foi mãe de diversas personalidades políticas e militares da história do Brasil, inclusive de dois presidentes da República. Dentre eles, estava o próprio líder do movimento republicano e proclamador da República:


- a) Hermes da Fonseca.
- b) Floriano Peixoto.
- c) Deodoro da Fonseca.
- d) Prudente de Morais.
- e) Campos Sales.

13. O Teatro Municipal de São Paulo foi palco de um movimento cultural cujo propósito era desenvolver uma expressão artística própria, nacional, que pudesse expressar características de nossa brasilidade, rompendo com a tradição das escolas literárias europeias. Seu auge ocorreu no ano de 1922, com a chamada Semana de Arte Moderna. Com representantes da literatura, música, escultura e arquitetura, qual dos nomes a seguir não é um representante desse movimento?


- a) Mário de Andrade
- b) Romero Britto
- c) Heitor Villa-Lobos
- d) Victor Brecheret
- e) Tarsila do Amaral

R

14. Observe as imagens a seguir:



Fonte: WIKIMEDIA COMMONS. Museu Nacional do Açúcar e do Alcool. Disponível em: <https://bit.ly/3g541ji>. Acesso em 03 Dez 2020.



"Engenho manual que faz caldo de cana", Jean-Baptiste Debret, 1822

O morro carioca conhecido como Pão de Açúcar é uma referência à forma utilizada na produção açucareira a partir da cana-de-açúcar. Sobre esse produto, é correto afirmar que:

- O cultivo da cana-de-açúcar pelos portugueses em terras americanas teve início por volta de 1530, quando se iniciou o processo de ocupação do território.
- Desde o início da exploração da cana-de-açúcar, a mão-de-obra utilizada foi a escrava, com os negros vindos da África.
- A empreitada açucareira foi tão bem sucedida que durou todo o período colonial.
- Foi o primeiro item a ser explorado logo após o achamento da América pelos portugueses, em torno de 1500, sendo responsável por lucros extraordinários.
- A produção de açúcar se desenvolveu apesar do pioneirismo e da falta de familiaridade dos portugueses com o cultivo da cana.

15. Com o advento da independência do Brasil, proclamada pelo então príncipe regente D. Pedro I, a primeira Constituição Brasileira é outorgada em 1824 e previa, além do equilíbrio entre os poderes Executivo, Legislativo e Judiciário, um quarto poder, o Poder Moderador, exercido pelo imperador, cujo principal objetivo era:

- a) Concentrar o poder nas mãos do governante, considerando sua ação sagrada e inviolável.
- b) Legislar, elaborando a legislação nacional.
- c) Fiscalizar o cumprimento da lei, estabelecendo as sanções devidas.
- d) Administrar o país, executando as leis vigentes.
- e) Aconselhar o imperador, mantendo a ordem a na administração do país.

16. (UERJ - adaptada) O impacto da vinda da Família Real portuguesa para o Brasil implicou alterações significativas para a cidade do Rio de Janeiro, que se prolongaram durante todo o período conhecido como “joanino”. Essas alterações produziram uma nova dinâmica socioeconômica e redefiniram, em vários aspectos, a inserção da cidade no contexto internacional. Selecione a alternativa que representa uma função urbana adquirida pelo Rio de Janeiro:

- a) Crescente polo turístico em função da chegada da Missão Artística Francesa.
- b) Principal porto brasileiro relacionado à importação de manufaturas britânicas.
- c) Expressivo núcleo comercial articulado à nascente rede ferroviária brasileira.
- d) Manutenção dos índices demográficos anteriores ao estabelecimento da Família Real.
- e) Importante centro religioso decorrente da instalação do Tribunal da Santa Inquisição.

17. A Força Expedicionária Brasileira (FEB) foi estabelecida em 9 de agosto de 1943 para lutar na Europa ao lado dos países Aliados, durante a Segunda Guerra Mundial, contra os países do Eixo. Observe o distintivo da FEB a seguir e selecione a alternativa correta:



Fonte: FÓRUM DEFESA. **Força Expedicionária Brasileira (FEB) na Segunda Guerra Mundial.** Disponível em: <https://bit.ly/37wbtA7>. Acesso em: 02 Dez 2020.



- a) A cobra fumando é uma referência à tática empregada pelo efetivo da FEB, que realizava operações de incursão tal qual o animal, sem ser notado.
- b) O cachimbo representa o poder bélico da FEB, associado ao poder de fogo do Exército Americano.
- c) O distintivo da FEB indicava que os militares brasileiros não mediriam esforços para combater os países do Eixo, fazendo a cobra fumar se fosse necessário.
- d) O símbolo relaciona-se à descrença popular do Brasil entrar na guerra, sendo mais fácil uma cobra fumar à participação brasileira no conflito em território europeu.
- e) A destreza dos militares brasileiros, decisiva na atuação no Teatro de Operações da Itália, foi representada pela cobra fumando.

18. (Unesp - adaptada) O século XIX foi marcado por dois períodos imperiais, identificados como Primeiro e Segundo Reinado, intercalados pelo que ficou chamado como Período Regencial. Sobre as revoltas desse momento histórico, é correto afirmar que:


- a) indicavam o descontentamento de diferentes setores sociais com as medidas de cunho liberal e antiescravista dos regentes, expressas no Ato Adicional.
- b) algumas, como a Farroupilhas (RS) e a Cabanagem (PA), foram organizadas pelas elites locais e não conseguiram mobilizar as camadas mais pobres e os escravos.
- c) provocaram a crise da Guarda Nacional, espécie de milícia que atuou como poder militar da Independência do país até o início do Segundo Reinado.
- d) a Revolta dos Malês (BA) e a Balaiada (MA) foram as únicas que colocaram em risco a ordem estabelecida, sendo sufocadas pelo Duque de Caxias.
- e) expressavam o grau de instabilidade política que se seguiu à abdicação e o fortalecimento das tendências fragmentárias da unidade nacional.

19. Em 1937 tem início um novo período do governo getulista, o Estado Novo. Assim, com o objetivo de difundir sua ideologia junto às camadas populares, foi criado, em 1939, o Departamento de Imprensa e Propaganda (DIP). Indique, entre as alternativas a seguir, qual delas NÃO corresponde à uma ação do DIP:

C

- a) Promover discussões nos sindicatos para ouvir as queixas dos trabalhadores.
- b) Coordenar, orientar e centralizar as propagandas interna e externa.
- c) Controlar as produções artísticas, dirigir o programa de radiodifusão oficial do governo e organizar manifestações cívicas, festas patrióticas, exposições e concertos.
- d) Realizar, de forma direta e indireta, a repressão política.
- e) Difundir a ideologia do Estado Novo junto às camadas populares.

20. Observe a imagem a seguir:



Charge de Angelo Agostini para a *Revista Illustrada*, 1887.

A charge representa uma conversa entre os militares e os membros do governo imperial. Sobre a chamada Questão Militar, marque a alternativa INCORRETA:

- a) Durante o governo de D. Pedro II, o Exército ocupou uma posição marginal na política brasileira.
- b) Os baixos soldos, a rígida disciplina da corporação e a lentidão nas promoções desencorajavam os filhos das elites a seguir a carreira militar.
- c) Após a Guerra do Paraguai, o Exército saiu enfraquecido como corporação, embora tenha sido vitorioso no conflito.
- d) Na década de 1880, houve uma série de atritos entre o governo e oficiais do Exército motivados pelo envolvimento dos militares em questões da política nacional.
- e) Durante a segunda metade do século XIX, os militares aproximaram-se da causa abolicionista pela libertação dos escravos.



3ª PARTE – GEOGRAFIA

21. O planeta Terra gira em torno do próprio eixo, do sentido oeste para o sentido leste, sendo esse movimento responsável pela sucessão dos dias e das noites. Assinale corretamente o nome dessa movimentação.

- a) Translação.
- b) Rotação.
- c) Precessão.
- d) Nutação.
- e) Deslocamento do periélio.

22. “No início do século XX, o cientista alemão Alfred Wegener desenvolveu uma teoria chamada **deriva continental**. Segundo essa teoria os continentes atuais são originários de um único continente que existiu há centenas de milhões de anos, denominado”:

Araribá Plus: Geografia. 5ª ed., São Paulo: Moderna, 2018.

- a) Laurásia.
- b) Gondwana
- c) Pangeia.
- d) Eurásia.
- e) Euro-Asiática.

23. A seguir, tem-se uma tabela registrando as temperaturas de algumas capitais do país no dia 24 do mês de novembro de 2020.

Tabela 1

Cidade	Temp. Máxima	Temp. Mínima
Campo Grande - MS	35 °C	24 °C
Palmas - TO	35 °C	23 °C
Natal - RN	31 °C	25 °C
Porto Alegre - RS	32 °C	18 °C
Boa Vista - RR	34 °C	24 °C

Fonte: Instituto Nacional de Meteorologia (INMET) – acesso:
<http://www.inmet.gov.br/portal> em 24/11/2020

Analise os dados disponibilizados e responda corretamente qual cidade tem a menor **amplitude térmica**.



- a) A amplitude térmica de Boa Vista foi maior do que a de Porto Alegre.
- b) Pode-se afirmar que Campo Grande teve a menor amplitude térmica do dia supracitado.
- c) A amplitude térmica de Porto Alegre foi baixa no dia 24 de novembro.
- d) Em Natal, foi registrada a menor amplitude térmica dentre todas as cidades no mês de novembro.
- e) Palmas teve a maior amplitude térmica do dia.

24. A partir da segunda metade do século XX, ocorreu um grande desenvolvimento da eletrônica e da informática, inaugurando assim a Terceira Revolução Industrial. Com o advento da tecnologia, houve uma intensificação no emprego de mão-de-obra qualificada, além da robotização da produção. Nesse momento, a indústria mudou o modelo de produção para:

- a) Fordismo.
- b) Taylorismo.
- c) Volvismo.
- d) Manufaturista.
- e) Toyotismo.

25. “As indústrias de _____ produzem bens que serão consumidos pela população”. Esses bens podem ser caracterizados como *duráveis* ou *não duráveis*. Assinale a alternativa que preenche corretamente a lacuna.

Araribá Plus: Geografia. 5ª ed., São Paulo: Moderna, 2018.

- a) Bens de produção.
- b) Bens de capital.
- c) Bens de consumo.
- d) Bens tradicionais.
- e) Bens de base.

26. Com o aumento do número de habitantes de uma determinada cidade, a área urbana também se expande. Esse processo é denominado:

- a) Expansão da mancha urbana.
- b) Conurbação.
- c) Regiões metropolitanas.
- d) Urbanização.
- e) Continuidade urbana.

27. A seguir, tem-se a letra da música “*Migração*”, de Jair Rodrigues. O trecho destacado faz alusão a qual conceito de migração definitiva?

*“Ele é migrador
Um retirante vindo de lá do sertão
Andou muitas léguas a pé
Perdeu seu filho, gado,
Cachorro e a mulher
Estrada seca encontrou
E a fé sempre prosperou
Na esperança ao menos
De algum caminhão
**Chegou na cidade grande
Sem emprego e proteção
Estranhou a diferença
Que existia no sertão (...)**”*

- a) Migração pendular.
- b) Êxodo urbano.
- c) Intra-regional.
- d) Transumância.
- e) Êxodo rural.

28. Para calcular o Índice de Desenvolvimento Humano (IDH) de um município, estado ou país, é necessário levar em consideração três itens. Assinale a alternativa que faz jus ao que é preciso para esse cálculo.



- a) Renda, saúde e educação.
- b) Renda, saúde e segurança.
- c) Saúde, economia local e PIB.
- d) Segurança, economia local e PIB.
- e) Segurança, economia global e PIB.

29. Algumas de suas configurações se dão por solo continental e insular, subsolo e espaço aéreo, além de suas fronteiras políticas, podendo ser naturais, como rios, ou artificiais, ou seja, construídas pelo ser humano. Assinale a alternativa que faz referência ao conceito descrito anteriormente.

- a) Nação.
- b) País.
- c) Território.
- d) Estado.
- e) Cidade.

30. Com sua origem na Europa e sendo consolidado na Revolução Industrial, o capitalismo transformou as relações econômicas e sociais até então existentes. Levando em consideração o processo de desenvolvimento, o capitalismo é dividido em três fases. Assinale a alternativa que aponta corretamente essas fases.

- a) Economia de mercado, industrial e financeiro.
- b) Comercial, industrial e financeiro.
- c) Estatização, economia planificada e economia de mercado.
- d) Economia de mercado, comercial e financeiro.
- e) Estatização, industrial e financeiro.

4ª PARTE – PORTUGUÊS

31. Leia o texto a seguir:

“Marcela amou-me durante quinze meses e onze contos de réis; nada menos. Meu pai, logo que teve aragem dos onze contos, sobressaltou-se deveras; achou que o caso excedia as raias de um capricho juvenil.

– Desta vez, disse ele, vais para a Europa; vais cursar uma universidade, provavelmente Coimbra; quero-te para homem sério e não para arruador e gatuno. E como eu fizesse um gesto de espanto:

– Gatuno, sim senhor. Não é outra coisa um filho que me faz isto...

Sacou da algibeira os meus títulos de dívida, já resgatados por ele, e sacudiu-mos na cara.

– Vês, peralta? É assim **que um moço deve zelar o nome dos seus?** Pensas que eu e meus avós ganhamos o dinheiro em casas de jogo ou a vadiar pelas ruas? Pelintra! Desta vez ou tomas juízo, ou ficas sem coisa nenhuma.”

(Machado de Assis – Memórias póstumas de Brás Cubas)

No texto acima, temos uma oração destacada que é classificada como:

- a) Oração coordenada assindética;
- b) Oração subordinada adjetiva explicativa;
- c) Oração subordinada substantiva subjetiva;
- d) Oração coordenada sindética aditiva;
- e) Oração subordinada adverbial causal.

32. Leia o texto a seguir:

"A carruagem parou ao pé **de** uma casa amarelada, com uma portinha pequena. Logo à entrada, um cheiro mole e salobro enojou-a. A escada, de degraus gastos, subia ingrememente, apertada entre paredes onde a cal caía, e a umidade fizera nódoas. No patamar da sobreloja, uma janela com um gradeadozinho de arame, parda do pó acumulado, coberta de teias de aranha, coava a luz suja do saguão. E por trás de uma portinha, ao lado, sentia-se o ranger de um berço, o chorar doloroso de uma criança." (Eça de Queirós)

As palavras destacadas acima são classificadas, respectivamente, como:



- a) Artigo, preposição e pronome do caso oblíquo;
- b) Preposição, artigo, pronome do caso oblíquo;
- c) Pronome do caso oblíquo, preposição e artigo;
- d) Artigo, pronome do caso oblíquo e preposição;
- e) Artigo, artigo e pronome do caso oblíquo.

33. Na frase “*Tudo é silêncio, tudo calma, tudo mudez*”. (Olavo Bilac), encontramos a figura de linguagem:

- a) Hipérbato;
- b) Hipálage;
- c) Anáfora;
- d) Anacoluto;
- e) Silepse.

34. Assinale a alternativa em que se encontra uma oração subordinada substantiva objetiva direta:

- a) Tenho necessidade do seu apoio;
- b) Só quero uma coisa: a sua volta imediata;
- c) Meu desejo é que você seja feliz;
- d) Parece que a injeção não fez o efeito esperado;
- e) Desejo que você regresse.

35. Considerando a conjunção destacada no trecho “*Todos faziam sinal para que o time não recuasse*”, pode-se dizer que ela estabelece uma relação de:

- a) Condição;
- b) Finalidade;
- c) Concessão;
- d) Proporção;
- e) Causa.

36. Observe o uso do artigo nas seguintes frases:



IV. O amar é para os fortes.

Assinale a alternativa que aponta corretamente a (s) frase (s) em que foi usado o recurso da substantivação.

- a) Em I e III;
- b) Em II e IV;
- c) Apenas em IV;
- d) Apenas em II;
- e) Em I e II.

37. Na frase “*Este aparelho é fraquíssimo*”, o adjetivo destacado está flexionado no grau:

- a) Superlativo relativo de inferioridade;
- b) Superlativo relativo de superioridade;
- c) Comparativo de inferioridade;
- d) Superlativo absoluto sintético;
- e) Superlativo absoluto analítico.

38. Assinale a alternativa em que a forma verbal destacada esteja correta.

- a) Ana **passeiava** calmamente pela orla do Leblon;
- b) Espero que **esteje** bem!
- c) Se nós **mantermos** nossa fé, tudo se acalmará;
- d) Eu me **maqueio** todas as manhãs;
- e) As crianças se **entretinham** no parque.

39. Leia as frases

- I. Ergueram-se todos contra mim;
- II. Resido em São Paulo há anos;
- III. O mendigo morreu de fome;
- IV. Os cavalos partiram a galope.

Assinale a alternativa que indica, respectivamente, as relações estabelecidas pelas preposições.

h

- a) Oposição, lugar, causa e modo;
- b) Modo, lugar, consequência, meio;
- c) Oposição, afirmação, intensidade, modo;
- d) Modo, afirmação, consequência e instrumento;
- e) Condição, lugar, consequência e modo.

40. Indique a alternativa que a circunstância expressa pelo adjunto adverbial destacado esteja correta.

*“Fui andando, **sorrateiramente**, encostadinho à parede.”*
(Machado de Assis)

- a) Circunstância de intensidade;
- b) Circunstância de modo;
- c) Circunstância de condição;
- d) Circunstância de afirmação;
- e) Circunstância de finalidade.



5ª QUESTÃO – REDAÇÃO

Leia o texto a seguir:

“Entende-se por ética como o conjunto de regras e preceitos de ordem valorativa e moral de um indivíduo, de um grupo social ou de uma sociedade. A ética é intrinsecamente relacionada à definição da moralidade, ao questionamento e julgamento sobre quais são os bons e maus valores no relacionamento humano. Já a moral é a diferenciação de intenções, decisões e ações entre aquelas que são distinguidas como próprias e as que são impróprias.

A ética pode encontrar-se com a moral pois a suporta, na medida em que não existem costumes ou hábitos sociais completamente separados de uma ética individual. Da ética individual se passa a um valor social, e deste, quando devidamente enraizado numa sociedade, se passa à Lei. Assim, pode-se afirmar, seguindo este raciocínio, que não existe lei sem uma ética que lhe sirva de alicerce”.

Com base no texto de apoio e em seus conhecimentos gerais, construa um texto dissertativo-argumentativo, de 15 (quinze) a 20 (vinte) linhas, posicionando-se em relação ao tema proposto a seguir:

“A IMPORTÂNCIA DA ÉTICA E DA MORAL NA FORMAÇÃO DO CIDADÃO”

OBSERVAÇÕES:

1. Seu texto deve ter, obrigatoriamente, de 15 (quinze) a 20 (vinte) linhas.
2. Aborde o tema sem se restringir a casos particulares ou específicos ou a uma determinada pessoa.
3. Formule uma opinião sobre o assunto e apresente argumentos que defendam seu ponto de vista, sem transcrever literalmente trechos do texto de apoio.
4. A redação que apresentar cópia do texto de apoio terá o número de linhas copiadas desconsiderado para efeito de correção.
5. Não se esqueça de atribuir um título ao texto.
6. A redação será considerada inválida (grau zero) nos seguintes casos:
 - modalidade diferente da **dissertativa**;
 - constituída de frases soltas, sem o emprego adequado de elementos coesivos;
 - fuga do tema proposto;
 - texto ilegível;
 - em forma de poema ou outra que não em prosa;
 - linguagem incompreensível ou vulgar; e
 - texto em branco ou com **menos** de 10 (dez) ou **mais** de 25 (vinte e cinco) linhas.

NOME: _____ NR CAM: _____ 21/23

A

7. Se sua redação tiver entre 10 (dez) e 14 (quatorze) linhas, inclusive, ou entre 21 (vinte e uma) e 25 (vinte e cinco) linhas, também inclusive, sua nota será diminuída, mas não implicará grau zero.



5ª QUESTÃO – REDAÇÃO

(TÍTULO)

5

10

15

20

25